

Шифр

9 - 7 3 8 0 4 6 - Г Е О - 5 - 0 8

Всероссийская олимпиада школьников по географии
школьный этап 2022-2023 учебный год

9 класс

ЛИСТ ОТВЕТОВ

Участник олимпиады	
Фамилия	Жидулин
Имя	Роман
Отчество	Алексеевич

№ задания	Баллы				Тесты
	1	2	3	4	
Количество баллов	4,5	10,55	4,55	05	17,255
Подпись члена жюри	<i>Жидулин</i>	<i>Жидулин</i>	<i>Жидулин</i>	<i>Жидулин</i>	<i>Жидулин</i>
Сумма баллов и подпись председателя	30,255				

max = 64,55

56,2%

призёр

Шифр

9 - 738046 - ГЕД - 5 - 08

Всероссийская олимпиада школьников по географии
школьный этап 2022-2023 учебный год
9 класс

Лист ответов
Тестовый тур

№	Ответ
1	ВВ 1
2	В 0
3	В 1
4	Б 0
5	Г 1
6	А 0
7	Г 0
8	А 1
9	А 0
10	АБ 1
11	БА 0
12	АА 1
13	В 0
14	4-А 2-В 3-Г 7-Д 5-Б 2,5
15	Д 0,5
16	ГВБА 1,5
17	ДАВБГ 2,5

Шифр

9	-	7	3	8	0	4	6	-	Г	Е	0	-	5	-	0	8				
18		$1-\overset{0,5}{B}^{\text{II}}$	$2-\overset{0,5}{D}^{\text{IV}}$	$3-\overset{0,5}{Г}^{\text{III}}$	$4-\overset{0,25}{Б}^{\text{V}}$	$5-\overset{0,5}{А}^{\text{I}}$													2,25	
19		$5-B$	$0,5$	$0,5$	$0,25$	$0,5$													0	
20		$A-A-3I, B-5IV, Г-4II, 5-DIII$																		2

Шифр

9 - 7 3 8 0 4 6 - Г Е 0 - 5 - 0 8

Теоретический тур






Задание № 1. «Космический снимок»

№	Вопрос	Ответ
1	Как называется этот искусственный гидрографический объект?	Суэцкий канал 1
2	Какие части света он разъединяет?	Европу и Азию 0
3	Какие водные объекты он соединяет?	Средиземное и Красное море 1
4	Какие города расположены на берегу объекта?	Суэц 1 0
5	На территории какого государства расположен этот гидрографический объект?	Борн Сауд, Суэц 0
6	Столица государства, на территории которого расположен этот гидрографический объект?	Каир 1
7	Почему этот объект без шлюзов?	это канал 0.

Шифр


9 - 7 3 8 0 4 6 - Г Е 0 - 5 - 0 8

Задание № 2. «Картографическое»

Контур озера	Название	Материк	Происхождение	Сведения
 А	Чадское	Евразия	Остаточное 1	Уровень озера находится ниже уровня Мирового океана. Оно расположено преимущественно в зонах полупустынь и пустынь внутренней области материка
 Б	Виктория	Африка	тектоническое 1,5	На территории озера находятся знаменитые заповедники и национальные парки. Наиболее интересен национальный парк острова Рубондо.
 В	Аралское	Евразия	Остаточное 1	В течение своей истории оно неоднократно претерпевало трансгрессии и регрессии — увеличения и последующие усыхания
 Г	Ньяса	Африка	тектоническое 1	В Республике Малави, которой принадлежит большая часть побережья, оно официально называется Малави, по названию страны и этнической группы. В Танзании и Мозамбике используется географическое название.
	-	-	-	Пятое по величине озеро материка. Оно

Шифр

9 - 7 3 8 0 4 6 - Г Е 0 - 5 - 0 8

Д	Онтарио	сев. Америка	ледниково-тектоническое 1	связано с оз. Эри рекой, на которой находится знаменитый водопад
 Е	Азотское	Евразия	Ледниково-тектоническое 1	С сентября 1941г. по март 1943г. действовала «Дорога жизни». Она связывала находящийся в блокаде г. Ленинград с остальной территорией страны.

№	Вопрос	Ответ
1.	Берега каких пяти стран омывает озеро А?	Россия, Казахстан, Туркменистан, Иран, и Азербайджан 2,5
2.	В честь кого названо озеро Б?	В честь жемчужного исследователя Африки 0
3.	Какая деятельность человека ускорило усыхание озера В?	орошение полей, плечи и изменение изгиба рек 0,5
4.	Какое озеро мира называют сестрой озера Г?	танганьика 1
5.	Назовите водопад на реке, которая связывает оз. Д и оз. Эри?	Ниагарский водопад 0,5
6.	Как назывался водный путь, проходящий по озеру Е из Скандинавии через Восточную Европу в Византию с IX века?	"из варяг в греки." 0,5

Шифр

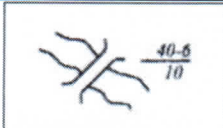

9 - 73 8046 - ГЕО - 5 - 08

Задание № 3. «Топографическое»

Условный знак на топографической карте	Название условного знака	Номер объекта на Рисунке (если обозначен)	Расшифровка текстовых подписей условных знаков
	хвойный лес	-	0,5
	дорога	-	0
	травяное поле	-	0
	мельница	-	0
	отдельно стоящее дерево	7	1
	река	4	4 1
	лужа		0,5
	церковь	2	2

Шифр

9 - 1 3 8 0 4 6 - Г Е 0 - 5 - 0 8

	деревянный мост	5	1
	отдел. стой. хвой. дерево	-	0,5

Задание № 4. «Историческая география»

0.

Вопрос	Ответ
1. Назовите имя натуралиста, о котором говорится в Указе президента РФ?	
2. В качестве кого совершил первые свои экспедиции по югу Дальнего Востока?	
3. Перед вам памятник на сопке Увальной. В каком городе он возведен?	
4. Какие книги написал путешественник, в честь которого разработан фирменный знак, и с какой целью?	
5. Запишите фамилию норвежского путешественника	