

Шифр

9	-	1	3	8	0	4	6	-	Г	Е	0	-	5	-	1	0			
---	---	---	---	---	---	---	---	---	---	---	---	---	---	---	---	---	--	--	--

Всероссийская олимпиада школьников по географии
школьный этап 2022-2023 учебный год

9 класс

ЛИСТ ОТВЕТОВ

Участник олимпиады	
Фамилия	Турсанов
Имя	Марк
Отчество	Андреевич

№ задания	Баллы				Тесты
	1	2	3	4	
Количество баллов	65	8,55	6,55	05	215
Подпись члена жюри	<i>Желез</i>	<i>Желез</i>	<i>Желез</i>	<i>Желез</i>	<i>Желез</i>
Сумма баллов и подпись председателя	425				

max 64,55 65,1 % призёр

Шифр

9 - 1 3 8 0 4 6 - Г Е 0 - 5 - 1 0

Всероссийская олимпиада школьников по географии
школьный этап 2022-2023 учебный год
9 класс

Лист ответов
Тестовый тур

№	Ответ
1	В) 1
2	Б) 1
3	В) 1
4	В) 1
5	Г) 1
6	Б) 1
7	А) 1
8	Б) 0
9	Г) 1
10	Б) 1
11	Г) 1
12	А) 1
13	В) 0
14	1-0), 2-В), 3-Г), 4-А), 5-Б) 2,5
15	Б) 0
16	1-0), 2-Г) , 3-В), 4-Б), 5-А) 1,5
17	Д), А), В), Б), Г) 2,5

Шифр

9	-	1	3	8	0	4	6	-	Г	Е	0	-	5	-	1	0		
18	1- II, 2- III, 3- V, 4- IV, 5- I —																	
19	1- A, 2- В , 3- Г, 4- Б , 5- Д 1,5																	
20	1- В -III, 2- A)-I, 3- Г, 4- Г , 5- B)-IV 2																	

+ + + +

Шифр

9 - 1 3 8 0 9 6 - Г Е 0 - 5 - 1 0

Теоретический тур






Задание № 1. «Космический снимок»

№	Вопрос	Ответ
1	Как называется этот искусственный гидрографический объект?	Суэцкий канал 1
2	Какие части света он разъединяет?	Африку и Азию 1
3	Какие водные объекты он соединяет?	Красное море и Средиземное море 1
4	Какие города расположены на берегу объекта?	Каир 0
5	На территории какого государства расположен этот гидрографический объект?	Египет 1
6	Столица государства, на территории которого расположен этот гидрографический объект?	Каир 1
7	Почему этот объект без шлюзов?	Одним уровнем соединяются моря 1

Шифр



9 - 1 3 8 0 4 6 - Г Е 0 - 5 - 7 0

Задание № 2. «Картографическое»

Контур озера	Название	Материк	Происхождение	Сведения
 А	Урмийское море	Евразия	0,5	Уровень озера находится ниже уровня Мирового океана. Оно расположено преимущественно в зонах полупустынь и пустынь внутренней области материка
 Б	озеро Бангвельское	Африка	1	На территории озера находятся знаменитые заповедники и национальные парки. Наиболее интересен национальный парк острова Рубондо.
 В	Аральское море	Евразия	Остаточное 1	В течение своей истории оно неоднократно претерпело трансгрессии и регрессии — увеличения и последующие усыхания
 Г	озеро Ньяса Малави	Африка	0,5	В Республике Малави, которой принадлежит большая часть побережья, оно официально называется Малави, по названию страны и этнической группы. В Танзании и Мозамбике используется географическое название.
	озеро Эри	Северная Америка		Пятое по величине озеро материка. Оно

Шифр

9 - 1 3 8 0 4 6 - Г Е 0 - 5 - 1 0

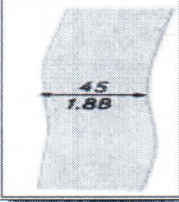
<p>Д</p> 	<p>Онтарио</p>	<p>Северная Америка</p>	<p>0,5</p>	<p>связано с оз. Эри рекой, на которой находится знаменитый водопад</p>
<p>Е</p> 	<p>Ладогское озеро</p>	<p>Евразия</p>	<p>Ледниково-тектоническое 1</p>	<p>С сентября 1941г. по март 1943г. действовала «Дорога жизни». Она связывала находящийся в блокаде г. Ленинград с остальной территорией страны.</p>

№	Вопрос	Ответ
1.	Берега каких пяти стран омывает озеро А?	Казанстан, Туркменистан, Иран, 2,5 Азербайджан, Россия
2.	В честь кого названо озеро Б?	В честь королевы Великобритании - 1 Виктории
3.	Какая деятельность человека ускорило усыхание озера В?	озеро Тиманьское ^{перенатывание воды} из озера для tướiания ⁰ рек
4.	Какое озеро мира называют сестрой озера Г?	озеро Тиманьское -
5.	Назовите водопад на реке, которая связывает оз. Д и оз. Эри?	Ниагарский водопад 0,5
6.	Как назывался водный путь, проходящий по озеру Е из Скандинавии через Восточную Европу в Византию с IX веке ?	-

Шифр



9 - 1 3 8 0 4 6 - Г Е 0 - 5 - 1 0

Задание № 3. «Топографическое»

Условный знак на топографической карте	Название условного знака	Номер объекта на Рисунке (если обозначен)	Расшифровка текстовых подписей условных знаков
	Хвойные леса	X	0,5
	Узкие дороги и тропы	X	0,5
	кустарники		—
	церковь	2	1
	Лиственные леса	1	плотность отмеченные как валежи берёз
	Река	4	Ширина реки и глубина (м)
	луговая растительность	3	
	Здание	X	

0.
2
1
0

Шифр

9	-	1	3	8	0	4	6	-	Г	Е	0	-	5	-	1	0			
		Мост / деревянный				5 1				Длина моста и ширина									
		Хвойные леса								95									

Задание № 4. «Историческая география»

Вопрос	Ответ
1. Назовите имя натуралиста, о котором говорится в Указе президента РФ?	Френкель Николай 0.
2. В качестве кого совершил первые свои экспедиции по югу Дальнего Востока?	этнограф, натуралист, геодезист
3. Перед вам памятник на сопке Увальной. В каком городе он возведен?	Кансальмак - на-Ашуре
4. Какие книги написал путешественник, в честь которого разработан фирменный знак, и с какой целью?	Дерсу Узало, показать людям как живут народы Ушайского района
5. Запишите фамилию норвежского путешественника	