

Шифр

9 - 1 3 8 0 4 6 - Г Е О - 5 - 0 2

Всероссийская олимпиада школьников по географии
школьный этап 2022-2023 учебный год

9 класс

ЛИСТ ОТВЕТОВ

Участник олимпиады	
Фамилия	Бордмиров
Имя	Даниил
Отчество	Андреевич

№ задания	Баллы				Тесты
	1	2	3	4	
Количество баллов	7,5	8,5	3,5	1,5	19,25
Подпись члена жюри	<i>[подпись]</i>	<i>[подпись]</i>	<i>[подпись]</i>	<i>[подпись]</i>	<i>[подпись]</i>
Сумма баллов и подпись председателя	38,25				<i>[подпись]</i>

max 64,5

59,3 % призер

Шифр

9 - 138046 - ГЕО - 5 - 02

**Всероссийская олимпиада школьников по географии
школьный этап 2022-2023 учебный год
9 класс**

**Лист ответов
Тестовый тур**

№	Ответ
1	б 1
2	б 1
3	б 1
4	б 1
5	г 1
6	б 1
7	б -
8	б -
9	г 1
10	а -
11	б -
12	г -
13	а -
14	1-д ; 2-б ; 3-г ; 4-а ; 5-б. 2,5
15	а б д 0
16	б г д б а 1
17	д а б б г 2,5

Шифр

9	-	1	3	8	0	4	6	-	Г	Е	0	-	5	-	0	2		
---	---	---	---	---	---	---	---	---	---	---	---	---	---	---	---	---	--	--

1,75

2,5

2

18	1-ДЗ- <u>II</u> ^{0,5} ; 2-Д- <u>III</u> ^{0,25} ; 3-Г- <u>IV</u> ^{0,25} ; 4-Ж- <u>V</u> ^{0,25} ;
19	5-А- <u>I</u> ^{0,5} ; 1-Ж; 2-Д; 3-Г; 4-ДЗ; 5-Ж
20	Ж-3-I; ДЗ-5-IV; Г-4-II; Д-1-III

Шифр

9 - 1 3 8 0 4 6 - Г Е О - 5 - 0 2

Теоретический тур






Задание № 1. «Космический снимок»

№	Вопрос	Ответ
1	Как называется этот искусственный гидрографический объект?	Суэцкий канал 1
2	Какие части света он разъединяет?	Азию от Африки 1
3	Какие водные объекты он соединяет?	Средиземное и Красное моря 1
4	Какие города расположены на берегу объекта?	Порт-Саид и Суэц 1
5	На территории какого государства расположен этот гидрографический объект?	Египет 1
6	Столица государства, на территории которого расположен этот гидрографический объект?	Каир 1
7	Почему этот объект без шлюзов?	Маленькая ширина канала, уровень вод практически одинаков. 1

Шифр

9 - 7 3 8 0 4 6 - Г Е О - 5 - 0 2


Задание № 2. «Картографическое»

Контур озера	Название	Материк	Происхождение	Сведения
 А	Каспийское 0,5	Евразия	Тектоническое	Уровень озера находится ниже уровня Мирового океана. Оно расположено преимущественно в зонах полупустынь и пустынь внутренней области материка
 Б	Виктория 0,5	Африка 0,5	Остаточное —	На территории озера находятся знаменитые заповедники и национальные парки. Наиболее интересен национальный парк острова Рубондо.
 В	Аральское море 0,5	Евразия 0,5	Остаточное	В течение своей истории оно неоднократно претерпело трансгрессии и регрессии — увеличения и последующие усыхания
 Г	Ньяса 0,5	Африка	0,5 Тектоническое	В Республике Малави, которой принадлежит большая часть побережья, оно официально называется Малави, по названию страны и этнической группы. В Танзании и Мозамбике используется географическое название.
	Онтарио	Северная Америка	Оз. Старинное	Пятое по величине озеро материка. Оно

← 0,5 0,5

Шифр

9 - 1 3 8 0 4 6 - Г Е О - 5 - 0 2






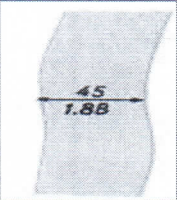

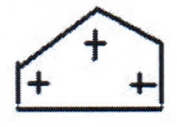
Д	Онтарио	Северная Америка 0,5	оз. Старица /	связано с оз. Эри рекой, на которой находится знаменитый водопад
 Е	Ладожское	Евразия 0,5	Ледниково-тектоническое	С сентября 1941г. по март 1943г. действовала «Дорога жизни». Она связывала находящийся в блокаде г. Ленинград с остальной территорией страны.

№	Вопрос	Ответ
1.	Берега каких пяти стран омывает озеро А?	Россия, Казахстан, Туркменистан, Иран, Азербайджан. 2,5
2.	В честь кого названо озеро Б?	В честь королевы Виктории 0,5
3.	Какая деятельность человека ускорило усыхание озера В?	Строительство 0
4.	Какое озеро мира называют сестрой озера Г?	Бланкенбург 0
5.	Назовите водопад на реке, которая связывает оз. Д и оз. Эри?	— 0
6.	Как назывался водный путь, проходящий по озеру Е из Скандинавии через Восточную Европу в Византию с IX века?	— 0



Шифр

9 - 7 3 8 0 4 6 - Г Е 0 - 5 - 0 2

Задание № 3. «Топографическое»

Условный знак на топографической карте	Название условного знака	Номер объекта на Рисунке (если обозначен)	Расшифровка текстовых подписей условных знаков
	Хвойный лес	0,5 —	Площадный
	Железная дорога	0,5 —	Движение
	—	0 —	—
	Церковь	2	Почтовый 1
	Соотношение деревьев	—	Площадный 0
	Ширина реки	4	Площадный 1
	Угловая растительность	3	Площадный 1
	—	—	—

Шифр

9	-	1	3	8	0	4	6	-	Г	Е	0	-	5	-	0	2			
		Деревянный мост		5	1	Трапециевидный													
		Отдельно стоящее дерево		1	0	Точечный													

Задание № 4. «Историческая география»

Вопрос	Ответ
1. Назовите имя натуралиста, о котором говорится в Указе президента РФ?	В. К. Арсеньев 1
2. В качестве кого совершил первые свои экспедиции по югу Дальнего Востока?	Путешественник
3. Перед вам памятник на сопке Увальной. В каком городе он возведен?	—
4. Какие книги написал путешественник, в честь которого разработан фирменный знак, и с какой целью?	—
5. Запишите фамилию норвежского путешественника	Р. Тирн