

Шифр

10	-	1	3	8	0	4	6	-	Г	Е	0	-	5	-	1	5			
----	---	---	---	---	---	---	---	---	---	---	---	---	---	---	---	---	--	--	--

Всероссийская олимпиада школьников по географии
школьный этап 2022-2023 учебный год
10 класс

ЛИСТ ОТВЕТОВ

Участник олимпиады	
Фамилия	Бабий
Имя	Сарра
Отчество	Витальевна

Баллы					
№ задания	1	2	3	4	Тесты
Количество баллов	55	25	35	65	14,55
Подпись члена жюри	<i>Жмаз</i>	<i>Жмаз</i>	<i>Жмаз</i>	<i>Жмаз</i>	<i>Жмаз</i>
Сумма баллов и подпись председателя	30,55 <i>С. А. П.</i>				

max = 605

51%

призёр

Шифр

10 - 1 3 8 0 4 6 - Г Е 0 - 5 - 1 5

Всероссийская олимпиада школьников по географии
школьный этап 2022-2023 учебный год

10 класс

Бланк ответов учащегося для заданий тестового тура

№ вопроса	Правильный ответ (элементы ответа)
1.	0
2.	A-3; B-2; B-4; Г-3 2
3.	B 1
4.	A 0
5.	Г 1
6.	Г 0
7.	A 0
8.	Г 1
9.	B 1
10.	B 1
11.	Г 1
12.	B 1
13.	Г 0
14.	B 0
15.	A 1
16.	A 0
17.	B 0
18.	Г 1
19.	A 1
20.	A-1; B-2; B-4; Г-5; D-3. 25

Шифр

10	-	1	3	8	0	4	6	-	Г	Е	0	-	5	-	1	5			
----	---	---	---	---	---	---	---	---	---	---	---	---	---	---	---	---	--	--	--

Теоретический тур

Задание № 1. «Родина футбольных клубов»

№	Ответ	
	Клуб	Город
1.	«Шинник»	Ярославль 0,5
2.	«Арсенал»	Лондон 0,5
3	«Нефтехимик»	Нижнекамск 0,5
4	«Уралмаш»	Екатеринбург 0,5
5	«Океан»	Находка 0,5
6	«Металлург»	Магнитогорск 0,5
7	«Самотлор»	Нижневартовск 0,5
8	«КамАЗ»	Набережные Челны 0,5
9	«Енисей»	Красноярск 0,5
10	«Алания»	Владикавказ 0,5

Шифр

10 - 1 3 8 0 4 6 - Г Е 0 - 5 - 1 5





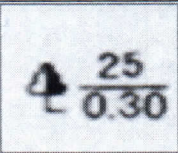


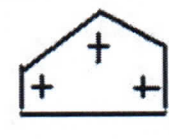


Задание № 2. «Историческая география»

№		Ответ
1.	Запишите имя натуралиста, о котором говорится в Указе президента РФ?	
2.	Какую горную систему на территории Хабаровского края изучал путешественник?	Сихотэ-Линь 1
3.	В качестве кого совершил первые свои экспедиции по югу Дальнего Востока?	
4.	Кто был кумиром путешественника, очерки которого были первыми настольными книгами об Уссурийском крае?	Николай Михайлович Стрелеватский 1
5.	Чтобы сохранить муку в тайге от сырости нужно мешок с мукой	

Шифр

10 - 1 3 8 0 4 6 - Г Е 0 - 5 - 1 5

Задание № 3. «Топографическое»

Условный знак на топографической карте	Название условного знака (цифровые обозначения)	Номер объекта на Рисунке (если обозначен)
	Лес	1
		
		
		
		
	река	4 1
	мост	3 1
	Церковь	2
	Мост	5 4
		

Шифр

10 - 1 3 8 0 4 6 - Г Е 0 - 5 - 1 5

Задание № 4. «Путешествие по Транссибу»

№	Город	Реки	Природная зона	Субъект РФ	Экономический район
1.	Ярославль Тверь +		Смешанн. л. +	Яросл. о. +	Центральная Россия +
2.	Пермь Новосибирск +		Тайга +	Пермский кр. +	Урал +
3.	Новосибирск +	Обь +	Лесостепи +	Новосиб. о. +	Западная Сибирь +
4.	Улан-Удэ +		Область выс. пояс. -	Республика Бурятия +	Дальний Восток +
5.	Белогорск +		Всп. выс. пояс. -	Амурская о. +	Дальний Восток +
6.	Хабаровск +	Амур +	Смеш. леса +	Хабаровский край +	Дальний Восток +