

485 из 1005 138046-Г-10  
78%

ВСЕРОССИЙСКАЯ ОЛИМПИАДА ШКОЛЬНИКОВ ПО ГЕОГРАФИИ  
2023–2024 уч. г. ШКОЛЬНЫЙ ЭТАП. 5 КЛАСС

Задание 1

В каждом списке найдите «лишний» объект («белую ворону») и объясните свой выбор.

Пример: Приволжская – Прикаспийская – Среднерусская – Смоленско-Московская – Валдайская.

Ошибка в логическом ряду. Прикаспийская. (2 балла)

Обоснование исключения. Это низменность, а ВСЕ остальные объекты – это возвышенности на территории России. (3 балла). Если Вы ответ дадите неполным, например, укажете, что это низменность, то жюри оценит Вас только 1 баллом, т. к. остаётся непонятным, чем являются остальные объекты и есть ли между ними общий признак.

Список	«Белая ворона»	Объяснение
Казахстан, Пакистан, Индостан, Узбекистан, Монголия	Индостан 2	Индостан – это полуостров, а все остальные – государства. 3
Чёрное, Красное, Белое, Верхнее, Жёлтое	Верхнее 2	Верхнее – это не море, а все остальные – моря 3
дуб, лиственница, берёза, клён, осина	лиственница 2	лиственница – хвойное растение, а остальные – лиственные. 3
Земля, Марс, Венера, Сатурн, Меркурий	Сатурн 2	У сатурна отчетливо видны кольца, а у всех остальных они не видны или их нету
север, северо-запад, юг, запад, восток	северо-запад 2	Все – это стороны света, а северо-запад – сторона между юв севером и западом. 3

228

## Задание 2

Заполните таблицу: для каждого понятия из левого столбца подберите примеры из списка. Каждый пример может быть использован только один раз.

*Тасмания, Токио, Антарктида, хинди, Веспуччи, Килиманджаро, Индийский, Средиземное, Монблан, Хуанхэ, барометр, Гольфстрим, Мексиканский, Суэцкий, Аргентина, Индостан, арабы, Байкал, кварц, Босфор.*

Понятие	Пример
город	Токио, Монблан. 1
страна	Аргентина 1
народ	арабы 1
язык	хинди 1
прибор	барометр 1
озеро	Байкал. 1
река	Хуанхэ 1
вулкан	Килиманджаро 1
материк	Антарктида 1
остров	Тасмания. 1
полуостров	Индостан 1
море	Средиземное 1
океан	Индийский 1
залив	Мексиканский 1
пролив	Босфор 1
минерал	кварц 1
канал	Суэцкий 1
течение	Гольфстрим 1
гора	Монблан. 1
путешественник	Веспуччи. 1

205

### Задание 3

Заполните пропуски в таблице, используя знания о природных зонах России и приведённые ниже названия животных, растений и городов.

#### Природные зоны России

Природная зона	Важная характеристика	Животное	Растение	Город
Арктические пустыни	Расположена на островах Северного Ледовитого океана	Северный олень, песец, лемминг.	Ягель	Крупные города отсутствуют
Тундра 1	Сильно заболоченная безлесная природная зона с многолетней мерзлотой	Северный олень. 1	Мох Моршник	—
Стайга 1	Самая большая по площади природная зона России	Заяц Медведь Кабан	Ель, сосна,	Якутск. Мурманск
Смешанные леса 1	Расположена к западу от Уральских гор и на Дальнем Востоке	Лось Медведь Волк соболь	Дуб 1 Берёза Осина	Москва 1
Степь 1	Отличается наиболее плодородными почвами	журавль, куропатка, сусак.	Высокая трава 1 ковыль Самшит	Ростов 1 и — Дону
Зона 1 Пустынь	Зафиксированы самые высокие летние температуры в стране	верблюд, ацербил, тушканчик, ушастый ёж	верблюжья колючка Самшит	Крупные города отсутствуют
Субтропики	Расположены известные морские курорты России	Лань, Рель грица,	Гальбана, Кипарис	Сочи 1 Евпатория

125



**Животные:** енотовидная собака, соболь, белый медведь, суслик, северный олень, кабан, ушастый ёж.

**Растения:** дуб, ковыль, лиственница, камнеломка снежная, солянка, самшит, карликовая берёза.

**Города:** Ростов-на-Дону, Мурманск, Ярославль, Сочи, Москва.

По какому принципу расположены названия природных зон в этой таблице (от арктических пустынь до субтропиков)?

Ответ: По принципу: с севера на юг. 45









#### Задание 4

Перед вами дневник погоды за первую неделю июля 2019. Рассмотрите его и ответьте на вопросы. Объясните свой ответ.

Дневник погоды в Москве за июль 2019 г.

Дата	Утро					Вечер				
	Т, °С	Д, мм рт. ст.	Обл.	Ветер	Явл.	Т, °С	Д, мм рт. ст.	Обл.	Ветер	Явл.
1	+24	739	●	↑ Ю 1 м/с		+24	736	☉	↑ Ю 1 м/с	
2	+18	739	●	↙ СЗ 3 м/с		+17	740	☉	↙ СЗ 3 м/с	
3	+19	740	●	→ 3 1 м/с		+13	740	●	→ 3 1 м/с	
4	+16	743	●	↙ СЗ 2 м/с		+15	743	●	↙ СЗ 2 м/с	
5	+19	741	●	→ 3 1 м/с		+17	740	●	→ 3 1 м/с	
6	+19	735	●	↑ Ю 1 м/с		+14	736	☉	↑ Ю 1 м/с	
7	+19	738	●	↙ СЗ 2 м/с	☉☉	+16	737	●	↙ СЗ 2 м/с	☉☉

Условные обозначения:

-  Ясно   
  Малооблачно   
  Облачно   
  Пасмурно  
 Дождь   
  Снег   
  Гроза   
 -5 Температура +25   
 Направление и скорость ветра 1 м/с

Вопрос	Ответ	Объяснение
1. В какой день Вы надели бы футболку и шорты?	1 1	Потому что дует 3 + 24° южный ветер и вечером малооблачно
2. В какой день к вечеру сильно похолодало?	3 1	Вечером было +13° а утром +19° -
3. В какой день была наименьшая вероятность дождя?	6 -	Самая низкая влажность, нет дождя. -
4. В какие дни и когда стоило использовать солнцезащитные очки?	1, 2, 6 3 вечером	Вечером было малооблачно 3
5. В какие дни дул только западный ветер?	3, 5 2	в дни 3 и 5 дул только западный ветер. 3
6. В какой из дней для прогулки понадобился зонт?	7 1	Утром и вечером 3 шел дождь и было пасмурно

205